


1. Narýsuj do čtvercové sítě čtverec OPRS.

2. Vypiš všechny vrcholy čtverce OPRS:


3. Vypiš všechny strany čtverce OPRS:



4. Narýsuj do čtvercové sítě obdélník KLMN.


5. Vypiš všechny vrcholy obdélníku KLMN:

6. Vypiš všechny strany obdélníku KLMN:



7. Změř a zapiš délku úsečky AB:

$|AB| =$ _____



8. Narýsuj trojúhelník ABC tak, aby úsečka AB byla součástí trojúhelníku ABC.